





Wem gehören die Geldbörsen? (A)

Finde heraus, welche Geldbörse wem gehört!

Schreibe unter die Geldbörse, was gekauft wurde.

Schreibe den richtigen Namen in die Geldbörse und male sie richtig an.

Schreibe jeweils den richtigen Restgeld-Betrag als Kommazahl über die Geldbörse.

- Roberta kauft sich einen Haarreifen um 2 € und 40 c. Sie bezahlt mit einem 5€-Schein. Das Restgeld steckt sie in ihre gelbe Geldbörse ganz rechts.
- Ihre kleine Schwester Helena hat 2 €. Sie darf sich einen Nagellack in ihrer Lieblingsfarbe rosa kaufen. Er kostet nur 90 c. Helena gibt ihr Restgeld in die zweite Geldbörse von links.
- Großmutter Erna hat eine alte braune Ledergeldbörse. Sie kauft für ihre beiden Enkelkinder je ein Schokoherz um 1€ 20 c. Oma Erna bezahlt mit zwei 2-€-Münzen. Sie steckt das Restgeld in die Geldbörse zwischen ihren Enkelinnen.
- In der ersten Geldbörse sind 15 2-Cent-Münzen, 6 5-Cent-Münzen und 2 20-Cent-Münzen. Susanna kauft sich einen grünen Glitzerstift um 1 €. Der Stift hat dieselbe Farbe wie ihre Geldbörse.
- Können sich Roberta und Helena gemeinsam eine große Packung Gummibärchen um 3,90 € kaufen?
Begründe:

