



Knobelaufgaben Klasse 1



Anna und Lukas spielen mit Murmeln.
Lukas hat 4 Murmeln mehr als Anna.
Zusammen haben sie 20 Murmeln.



Wie viele Murmeln hat Lukas?



Merve, Anna und Lukas möchten sich ein Eis kaufen.
Jedes Kind hat Geld für 2 Kugeln Eis.
Der Eisverkäufer bietet 3 Sorten Eis an: Schoko, Vanille und
Himbeereis.




Was für ein Eis könnte sich Anna kaufen?
Finde verschiedene Möglichkeiten!

Lukas hat 12 Murmeln.
(Anna hat 8 Murmeln.)

Es gibt sechs verschiedene Möglichkeiten:

Schoko/Vanille
Schoko/Himbeer
Schoko/Schoko
Vanille/Himbeer
Vanille/Vanille
Himbeer/Himbeer




Dick, Faul und Doof finden einen Sack voll Taler.

Sie zählen 27 Stück.

Sie wollen die Taler gerecht unter sich verteilen.



Geht das?



Dornröschen schläft 100 Jahre.

Alle 10 Jahre kommt ein Prinz, um sie zu wecken.

Der letzte Prinz schafft es.




Der wievielte Prinz hat es geschafft?

Wie viele Prinzen sind vergeblich gekommen?

Jeder bekommt 9 Taler.

Der 10. Prinz schafft es. 9 Prinzen kommen vergeblich.



Lukas hat doppelt so viele Sticker wie Anna.

18 Sticker liegen auf dem Tisch.

Wie viele Sticker hat Lukas?

Wie viele Sticker hat Anna?



Mutti, Vati und Lukas fahren mit dem Dampfer.

Für Kinder kostet es nur die Hälfte.

Sie bezahlen insgesamt 10 €.

Wie viel kostet die Karte für einen Erwachsenen und


wie viel kostet sie für

ein Kind?



Lukas hat 12 Sticker. Anna hat 6 Sticker.

Für einen Erwachsenen kostet die Karte 4 €,
für ein Kind kostet sie 2 €.



Mutti kauft für Lukas, Anna und Merve Sonnenbrillen.
Sie haben den gleichen Preis und kosten zusammen 21 €.
Wie viel hätte sie bezahlen müssen, wenn sie auch für sich und Vati
eine solche Sonnenbrille gekauft hätte?



Die Mutter hätte 35 € bezahlen müssen. Eine Brille kostet 7 €.