


Mogli, der Affe bekam vom Pfleger 6 Bananen.  
3 Bananen hat er schon gegessen.  
Wie viele Bananen hat Mogli noch?



R: \_\_\_\_\_

A: Mogli hat noch \_\_\_\_\_ Bananen

ZR 10

Susi besitzt 4 Murmeln. Beim Spiel gewinnt  
Susi 3 Murmeln.  
Wieviel Murmeln besitzt Susi nun?



R: \_\_\_\_\_

A: Susi besitzt nun \_\_\_\_\_ Murmeln.

ZR 10

Maus Mimi isst in der Früh 1 Käse, zu Mittag 3 Käse und am Abend noch 2 Käse.

Wie viel Käse hat Mimi gegessen?



R: \_\_\_\_\_

A: Mimi hat \_\_\_\_ Käse gegessen.

ZR 10

Prinzessin Lea hat \_\_\_\_ Puppen. 3 Puppen schenkt sie ihren Freundinnen und 2 Puppen ihrer kleinen Schwester.  
Wie viele Puppen hat Lea noch?



R: \_\_\_\_\_

A: Lea hat noch \_\_\_\_ Puppen.

ZR 10

Rudi besitzt \_\_\_\_ Honigtöpfe. Sein Freund Mario hat um 3 Töpfe **weniger**.  
Wie viele Töpfe besitzt Mario?




R: \_\_\_\_\_

A: Mario besitzt \_\_\_\_ Töpfe.

ZR 10

Raupe Ursula frisst \_\_\_\_ Äpfel. Ihre Freundin Rosa frisst um 5 Äpfel **mehr**.  
Wie viele Äpfel frisst Rosa?




R: \_\_\_\_\_

A: Rosa frisst \_\_\_\_ Äpfel.

ZR 10

Willi, die Biene fliegt zu \_\_\_\_ Blumen und sammelt Honig. Maya fliegt um 4 Blumen **mehr** an.

Wie viele Blumen fliegt Maya an?



R: \_\_\_\_\_

A: Maya fliegt \_\_\_\_ Blumen an.

ZR 10

Der Marienkäfer hat auf einem Flügel 3 Punkte und auf dem anderen 5 Punkte.

Wie viele Punkte hat er insgesamt?



R: \_\_\_\_\_

A: Der Marienkäfer hat \_\_\_\_ Punkte.

ZR 10

Toni findet in der Schatztruhe  
 \_\_\_ Edelsteine. 3 schenkt er seiner  
 Oma und 2 seiner großen Schwester.  
 Wie viele Edelsteine hat Toni übrig?




R: \_\_\_\_\_

A: Toni hat \_\_\_ Edelsteine übrig.

ZR 10

Miriam würfelt mit dem ersten Würfel 1 und  
 mit dem zweiten Würfel 6.  
 Wie viele Schritte darf sie weiter  
 rücken?



R: \_\_\_\_\_

A: Miriam darf \_\_\_ Schritte weiter rücken.

ZR 10

Schnecke Lilli frisst \_\_\_\_ Erdbeeren.  
 Ihre Freundin Lara frisst um  
 4 Beeren **mehr**.  
 Wie viele Erdbeeren frisst Lara?

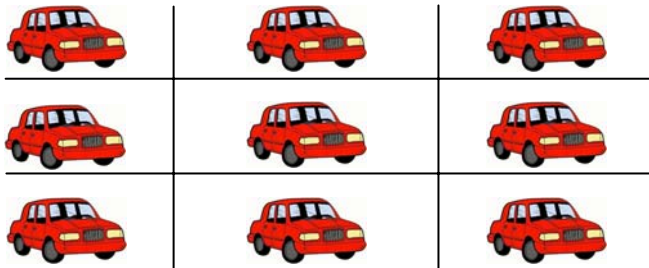


R: \_\_\_\_\_

A: Lara frisst \_\_\_\_ Erdbeeren.

ZR 10

Auf dem Parkplatz stehen \_\_\_\_ Autos.  
 6 Autos fahren weg.  
 Wie viele Autos stehen noch auf dem Parkplatz?




R: \_\_\_\_\_

A: Auf dem Parkplatz stehen noch \_\_\_\_ Autos.

ZR 10



Schildkröte Henriette liebt Gurken.  
 Zur Jause hat sie \_\_\_\_ Gurken mit.  
 Ihre Freundin schenkt ihr noch 2  
 und der Lehrer 1 Gurke.  
 Wie viele Gurken kann Henriette essen



R: \_\_\_\_\_

A: Henriette kann \_\_\_\_ Gurken essen.

ZR 10

Der kleine Schlumpf liebt Schokolade.  
 In der Früh ist er 1 Tafel. Später nascht er  
 noch 2 Tafeln, am Nachmittag 4 und am Abend keine  
 Tafel mehr.  
 Wie viele Tafeln Schokolade isst der  
 kleine Schlumpf?



R: \_\_\_\_\_

A: Der Schlumpf isst \_\_\_\_ Tafeln Schokolade.

ZR 10

Hund Bello vergräbt \_\_\_\_ Knochen. Nach einigen Tagen puddelt er wieder 8 Knochen aus.

Wie viele Knochen sind noch unter der Erde vergraben?





R: \_\_\_\_\_

A: Es sind noch \_\_\_\_ Knochen vergraben.

ZR 10

Im Garten stehen \_\_\_\_ Blumen. Auf 3 Blumen sitzen Schmetterlinge.

Auf wie vielen Blumen sitzt kein Schmetterling?



R: \_\_\_\_\_

A: Auf \_\_\_\_ Blumen sitzt kein Schmetterling.

ZR 10





17

Bäcker Kurt bäckt \_\_\_\_ Kuchen. Am ersten Tag verkauft er 3 Kuchen, am zweiten Tag 2 Kuchen und am dritten Tag 4 Kuchen. Wie viel Kuchen hat Kurt noch übrig?



R: \_\_\_\_\_

A: Kurt hat noch \_\_\_\_ Kuchen übrig.

ZR 10



18

Hase Stupsi hat Geburtstag. Vor der Feier hat er 3 Karotten. Nach der Feier besitzt Stupsi 9 Karotten. Wie viele Karotten bekommt Stupsi von seinen Freunden geschenkt?



R: \_\_\_\_\_

A: Stupsi bekommt \_\_\_\_ Karotten geschenkt.

ZR 10



19

Otto spielt mit \_\_\_\_ Autos am Spielplatz.  
Am Abend hat er nur noch 5 Autos.  
Wie viele Autos hat Otto verloren?



R: \_\_\_\_\_

A: Otto hat \_\_\_\_ Autos verloren.



ZR 10



20

Nanuk fängt \_\_\_\_ Fische. Sein Freund fängt  
7 Fische.  
Wie viele Fische hat Nanuk **weniger**  
gefangen?



R: \_\_\_\_\_

A: Nanuk hat \_\_\_\_ Fische weniger gefangen.



ZR 10